

	EMEB ALFREDO DE ALMEIDA	PROFESSOR(A) DEISE	CLASSE: 4º B	DATA: 19/04 À 23/04
SEGUNDA - FEIRA 19/04 - Dia do Índio	TERÇA-FEIRA	QUARTA-FEIRA 21/04 – Tiradentes	QUINTA –FEIRA 22/04 – Descobrimento do Brasil	SEXTA-FEIRA
<p>➔ CABEÇALHO</p> <p>➔ VÍDEO: DIA DO ÍNDIO</p> <p>https://youtu.be/MyFj_OEU_n4w</p> <p><u>PORTUGUÊS</u></p> <p>- Interpretação de texto</p> <p><u>MATEMÁTICA</u></p> <p>- tabela, adição e subtração - tabuada</p> <p>AULA AO VIVO 15:00 -Correção e Análise da prova de matemática</p>	<p>➔ CABEÇALHO</p> <p>➔ VÍDEO: TIRADENTES</p> <p>https://www.youtube.com/watch?v=3E9xpBe5l6w</p> <p><u>INGLÊS</u></p> <p><u>ED. FÍSICA</u></p> <p><u>PORTUGUÊS</u> - Sílabas (classificação)</p> <p><u>HISTÓRIA</u> -Explicação da data e Interpretação de texto sobre Tiradentes</p> <p>AULA AO VIVO 15:00 - Atividade de História</p>	<p style="text-align: center;"><u>PLANEJAMENTO ESCOLAR</u></p>	<p>➔ CABEÇALHO</p> <p>➔ VÍDEO: HINO NACIONAL BRASILEIRO</p> <p>https://www.youtube.com/watch?v=Z7pFwsX6UVc</p> <p><u>ARTES</u></p> <p><u>MATEMÁTICA</u> - Algarismos Romanos</p> <p>-CORREÇÃO DE ATIVIDADES</p>	<p style="text-align: center;"><u>FERIADO DE TIRADENTES</u></p> <p style="text-align: center;">(TROCA DO DIA 21/04 PARA 23/04)</p>

TABUADA - MULTIPLICAÇÃO

- 1 Os alunos da turma de Ana e Túlio montaram uma tabela de dupla entrada para registrar a quantidade de pontos que marcaram em cada uma das três etapas de uma competição de jogos matemáticos.

Etapa \ Aluno	Helena	Roberto	Cristina	Karina	Valde
A	100	20	100	50	50
B	100	20	50	20	50
C	100	100	50	100	20

Responda:

- a) quantos pontos Cristina fez na etapa A? _____
- b) qual dos alunos fez menos de 50 pontos na etapa C? _____
- c) quem marcou mais de 20 pontos na etapa B? _____
- d) em qual das etapas Karina fez mais pontos? _____
- e) quem marcou mais pontos na etapa A? _____

Marcos é amiguinho de Ana e Túlio. O número da casa onde o Marcos mora é igual ao resultado da adição dos números 299 e 587. Qual o número da casa de Marcos?

O pai de Túlio quer comprar um notebook que custa 2.250 reais, mas ele tem "apenas" 1.480 reais. Quanto falta para ele poder comprar esse notebook?

$1 \times 1 = 1$

$1 \times 2 = 2$

$1 \times 3 = 3$

$1 \times 4 = 4$

$1 \times 5 = 5$

$1 \times 6 = 6$

$1 \times 7 = 7$

$1 \times 8 = 8$

$1 \times 9 = 9$

$1 \times 10 = 10$

$2 \times 1 = 2$

$2 \times 2 = 4$

$2 \times 3 = 6$

$2 \times 4 = 8$

$2 \times 5 = 10$

$2 \times 6 = 12$

$2 \times 7 = 14$

$2 \times 8 = 16$

$2 \times 9 = 18$

$2 \times 10 = 20$

$3 \times 1 = 3$

$3 \times 2 = 6$

$3 \times 3 = 9$

$3 \times 4 = 12$

$3 \times 5 = 15$

$3 \times 6 = 18$

$3 \times 7 = 21$

$3 \times 8 = 24$

$3 \times 9 = 27$

$3 \times 10 = 30$

$4 \times 1 = 4$

$4 \times 2 = 8$

$4 \times 3 = 12$

$4 \times 4 = 16$

$4 \times 5 = 20$

$4 \times 6 = 24$

$4 \times 7 = 28$

$4 \times 8 = 32$

$4 \times 9 = 36$

$4 \times 10 = 40$

$5 \times 1 = 5$

$5 \times 2 = 10$

$5 \times 3 = 15$

$5 \times 4 = 20$

$5 \times 5 = 25$

$5 \times 6 = 30$

$5 \times 7 = 35$

$5 \times 8 = 40$

$5 \times 9 = 45$

$5 \times 10 = 50$

$6 \times 1 = 6$

$6 \times 2 = 12$

$6 \times 3 = 18$

$6 \times 4 = 24$

$6 \times 5 = 30$

$6 \times 6 = 36$

$6 \times 7 = 42$

$6 \times 8 = 48$

$6 \times 9 = 54$

$6 \times 10 = 60$

$7 \times 1 = 7$

$7 \times 2 = 14$

$7 \times 3 = 21$

$7 \times 4 = 28$

$7 \times 5 = 35$

$7 \times 6 = 42$

$7 \times 7 = 49$

$7 \times 8 = 56$

$7 \times 9 = 63$

$7 \times 10 = 70$

$8 \times 1 = 8$

$8 \times 2 = 16$

$8 \times 3 = 24$

$8 \times 4 = 32$

$8 \times 5 = 40$

$8 \times 6 = 48$

$8 \times 7 = 56$

$8 \times 8 = 64$

$8 \times 9 = 72$

$8 \times 10 = 80$

$9 \times 1 = 9$

$9 \times 2 = 18$

$9 \times 3 = 27$

$9 \times 4 = 36$

$9 \times 5 = 45$

$9 \times 6 = 54$

$9 \times 7 = 63$

$9 \times 8 = 72$

$9 \times 9 = 81$

$9 \times 10 = 90$

$10 \times 1 = 10$

$10 \times 2 = 20$

$10 \times 3 = 30$

$10 \times 4 = 40$

$10 \times 5 = 50$

$10 \times 6 = 60$

$10 \times 7 = 70$

$10 \times 8 = 80$

$10 \times 9 = 90$

$10 \times 10 = 100$

DIA DO ÍNDIO - 19 DE ABRIL

Os índios foram os primeiros habitantes do Brasil. Eles vivem em grupos chamados TRIBOS.

Os índios têm vários costumes diferentes dos nossos.

Eles moram em cabanas chamadas OCAS. Várias ocas formam uma aldeia chamada TABA.

Os índios alimentam-se de produtos que cultivam, de frutos colhidos na mata e de animais que caçam e pescam.

Para caçar e pescar, usam arcos, flechas e lanças, feitos por eles mesmos.

Os índios pintam o corpo e se enfeitam com colares e penas coloridas. Suas festas são alegres, com muita música e dança.

Hoje existem poucas tribos indígenas no Brasil.

A FUNAI é um órgão criado pelo governo para proteger e valorizar o índio. FUNAI significa: Fundação Nacional do Índio.



RESPONDA NO CADERNO

1) Em que dia se comemora o Dia do Índio?

.....

2) Como vivem os índios?

.....

3) De que os índios se alimentam?

.....

4) O que significa e qual é o papel da FUNAI?

.....

5) O que os índios usam para caçar e pescar?

.....

6) Na sua opinião, por que hoje existem poucas tribos indígenas no Brasil?

Separação de Sílabas - 4º ano

As palavras podem ser classificadas em quatro tipos:


Monossílabas, dissílabas, trissílabas e polissílabas.

As palavras **monossílabas** são aquelas que possuem apenas uma sílaba e, portanto, não podem ser separadas.

As palavras **dissílabas** são aquelas que possuem duas sílabas, e podem ser separadas em duas partes.

As palavras **trissílabas** são aquelas que possuem três sílabas, podendo ser divididas em três partes.

E por fim, as palavras **polissílabas** são aquelas que possuem quatro ou mais sílabas, podendo ser separadas em quatro ou mais partes.



Relacione as colunas:

- | | |
|----------------------|---|
| 1 - São monossílabas | () Palavras com quatro ou mais sílabas |
| 2 - São dissílabas | () Palavras com uma sílaba |
| 3 - São trissílabas | () Palavras com três sílabas |
| 4 - São polissílabas | () Palavras com duas sílabas |

Numeração Romana



I	=	1	XX	=	20	CCC	=	300
II	=	2	XXX	=	30	CD	=	400
III	=	3	XL	=	40	D	=	500
IV	=	4	L	=	50	DC	=	600
V	=	5	LX	=	60	DCC	=	700
VI	=	6	LXX	=	70	DCCC	=	800
VII	=	7	LXXX	=	80	CM	=	900
VIII	=	8	XC	=	90	M	=	1.000
IX	=	9	C	=	100	MM	=	2.000
X	=	10	CC	=	200	MMM	=	3.000

ESCOLA: _____
NOME: _____
PROFESSOR(A): _____ DATA: _____

HISTÓRIA


Prof. Gisela Aguiar

➤ LEIA O TEXTO ABAIXO PARA RESPONDER OS ITENS DE 1 A 7.

TIRADENTES E A INCONFIDÊNCIA MINEIRA

No dia 21 de abril é feriado no Brasil porque se comemora o Dia de Tiradentes. A data remete ao dia da morte do mineiro Joaquim José da Silva Xavier, o que ocorreu em 21 de abril de 1792. Joaquim José foi um dos líderes da Inconfidência Mineira. Era conhecido pelo apelido "Tiradentes" e foi tido por muitos como um "herói nacional".

Tiradentes nasceu na Capitania de Minas Gerais, em 12 de novembro de 1746, na época do período colonial do Brasil. Entre as muitas profissões que exerceu, estava a de dentista amador, por isso recebeu o apelido de "Tiradentes", pelo qual se tornou conhecido. Foi, porém, na carreira militar que ele fixou-se como profissional. Ele fez parte da cavalaria de Dragões Reais de Minas, no posto de alferes - uma patente abaixo da de tenente.



Os Dragões eram uma companhia militar formada por portugueses e brasileiros que estava submetida à autoridade da Coroa lusitana e atuava na Colônia.

Tiradentes foi morto no ano de 1792 porque liderou a Inconfidência Mineira, um movimento em prol da independência do Brasil. **Quem matou Tiradentes** foi a corte portuguesa, que o condenou ao enforcamento e esquartejamento.

<https://www.educacaoetransformacao.com.br/tiradentes/>

1ª) Qual o verdadeiro nome de Tiradentes?

2ª) Por que ele recebeu o apelido de Tiradentes?

3ª) Tiradentes foi acusado de conspiração. Qual o significado da palavra em destaque?

- (A) Castigo.
- (B) Combinação.
- (C) Correção.
- (D) Verdade.

Professora Gisela Aguiar

4ª) O que era a Cavalaria de Dragões?

5ª) Quem matou Tiradentes e como ele morreu?

6ª) qual a idade de Tiradentes no dia da sua morte?

- (A) 12 anos.
- (B) 21 anos.
- (C) 46 anos.
- (D) 54 anos.

➤ LEIA O TEXTO ABAIXO PARA RESPONDER OS ITENS DE 8 A 10.


Os brasileiros sempre desejaram libertar o Brasil do domínio de Portugal. Para isso, foi organizado, em 1789, um movimento em Minas Gerais, que planejava separar o Brasil de Portugal. Esse movimento ficou conhecido como Inconfidência Mineira.

A Inconfidência Mineira fracassou. Joaquim Silvério dos Reis, um dos inconfidentes, denunciou os planos às autoridades de Minas Gerais.

7ª) **Tiradentes** foi morto no ano de 1792 porque liderou a Inconfidência Mineira. Qual era o objetivo da Inconfidência mineira?

8ª) Onde ocorreu a Inconfidência Mineira?

9ª) Escreva o dia, mês e ano da sua morte?



Vejamos como o narra Lucas Figueiredo:

"Tiradentes, o ponto mais frágil da urdidura, teve o fim mais cruel. Depois de amargar três anos de prisão, ele foi enforcado e esquartejado. Para que os súditos da Coroa nunca se esquecessem da lição, a cabeça de Tiradentes foi encravada numa estaca e exposta em praça pública em Vila Rica, e seus membros, espalhados pela estrada que levava ao Rio de Janeiro."

Professora Gisela Aguiar